



Сурагчийн нэр: .....

Эхэлсэн: ..... он ..... сар ..... өдөр



Бүхэл хэсэг		Бүхлийн цэг	Бутархай хэсэг	
Аравт	Нэгж		Аравны хэсэг	Зууны хэсэг
	3		0	5

Орон ангийн хүснэгтэд аравтын бутархайг бичээрэй.

1

Бүхэл хэсэг	Бүхлийн цэг	Бутархай хэсэг
Нэгж		Аравны хэсэг
	•	

Бүхэл хэсэг	Бүхлийн цэг	Бутархай хэсэг
Нэгж		Аравны хэсэг

Орон ангийн хүснэгтэд аравтын бутархайг бичээрэй.

3

Бүхэл хэсэг		Бүхлийн цэг	Бутархай хэсэг	
Аравт	Нэгж		Аравны хэсэг	Зууны хэсэг
		•		

4

Бүхэл хэсэг		Бүхлийн цэг	Бутархай хэсэг	
Аравт	Нэгж		Аравны хэсэг	Зууны хэсэг
		•		

0 0.01 0.02

Дууссан: .....сар .....өдөр



Даалгавар	1
Өөрийн үнэлгээ	



Сурагчийн нэр: .....

Эхэлсэн: ..... он ..... сар ..... өдөр



1.7

2.05

1 Өгсөн аравтын бутархайн дүрслэлийг будаарай.

Бүхэл хэсэг		Бүхлийн цэг	Бутархай хэсэг	
Нэгж			Аравны хэсэг	
2		•	5	

2 Өгсөн аравтын бутархайн дүрслэлийг будаарай.

Бүхэл хэсэг	Бүхлийн цэг	Аравны хэсэг	Бүхэл хэсэг	Бүхлийн цэг	Аравны хэсэг
1	•	2	1	•	5

Бүхэл хэсэг	Бүхлийн цэг	Зууны хэсэг	Бүхэл хэсэг	Бүхлийн цэг	Зууны хэсэг
1		25	1		54

3 Өгсөн аравтын бутархайн дүрслэлийг будаарай.

Бүхэл хэсэг	Бүхлийн цэг	Бутархай хэсэг	Бүхэл хэсэг	Бүхлийн цэг	Бутархай хэсэг
2		07	2		37

0 0.01 0.02

Дууссан: .....сар .....өдөр

Даалгавар	1
Өөрийн үнэлгээ	



Сурагчийн нэр: .....

Эхэлсэн: ..... он ..... сар ..... өдөр

2.5

1.5

$2.5 > 1.5$

0.02

0.12

$0.02 < 0.12$

1 Бутархай тооны загварыг ажиглан тоон шулуун дээр цэгээр тэмдэглээд, жишээрэй.

а.

б.  $1.6 \square 0.8$        $1.4 \square 2.1$        $1.4 \square 1.6$        $2.1 \square 0.8$

2 Тоон шулуун дээр цэгээр тэмдэглэн жишээрэй.

$4.2 \square 5.1$        $5.2 \square 4.8$        $4.1 \square 5.1$        $5.6 \square 6.3$

3

$1.05 \square 1.54$        $1.25 \square 1.63$        $1.62 \square 1.12$        $1.98 \square 2.01$

4 Аравтын бутархайг өсөх эрэмбээр эрэмбэлээрэй.

а. 1.6; 3.8; 2.4      б. 2.5; 2.4; 2.8 2.1      в. 0.28; 2.14; 2.83 2.09

Бүхэл хэсгээр тоймловол:  $2.4 \approx 2$        $2.7 \approx 3$   
 Аравны хэсгээр тоймловол:  $2.71 \approx 2.7$        $2.75 \approx 2.8$

5 Бүхэл хэсгээр тоймлоорой.

а.  $3.2 \approx 3$        $37.3 \approx$        $62.5 \approx$        $57.6 \approx$        $103.9 \approx$

б.  $27.13 \approx$        $19.36 \approx$        $49.85 \approx$        $42.04 \approx$        $65.54 \approx$

6 Аравны хэсгээр тоймлоорой.

$45.16 \approx$        $27.35 \approx$        $52.54 \approx$        $71.12 \approx$

$35.61 \approx$        $37.86 \approx$        $49.85 \approx$        $35.09 \approx$

7 Бүхэл хэсгээр тоймлож, жишээрэй.

$5.17 \square 4.39$        $5.06 \square 5.51$        $75.83 \square 75.51$        $90.83 \square 90.28$

Дууссан: .....сар .....өдөр



Даалгавар	1	2	3	4	5	6	7
Өөрийн үнэлгээ	😊	😊	😊	😊	😊	😊	😊






Сурагчийн нэр: .....

Эхэлсэн: ..... он ..... сар ..... өдөр

1 Илэрхийллийн утгыг олоорой.


а.  $(2.13 + 3.18) - 1.7 =$

б.  $76.5 - (9.6 + 8.4) =$



в.  $8.4 + 2.6 - 10.5 + 5.4 =$

г.  $67.08 - 4.5 + 3.26 - 2.7 + 50.05 =$



2 Хялбар аргаар бодоорой.

а.  $0.5 \times 10 = 1$

б.  $0.7 \times 10 =$

в.  $0.8 \times 10 =$

$0.05 \times 10 = 1.4$

$0.07 \times 10 =$

$0.08 \times 10 =$

3 Илэрхийллийн утгыг Хялбар аргаар олоорой.

д.  $2.8 \div 2 = 9$

е.  $2.7 \div 3 =$

ё.  $4.5 \div 5 =$


ж.  $63 \div 9 =$

$2.8 \div 4 = 0.9$

$2.7 \div 9 =$


$4.5 \div 9 =$

$6.3 \div 7 =$



4 а.  $35.4 \div 10 + 1\frac{13}{100} =$

б.  $(4\frac{16}{100} - 2.4 \times 10) \div 10 =$



5 Сонирхолтой квадрат бүтээгээрэй.

а.

0.2	0.7	0.6
		0.1
	0.3	

б.


в.


Дууссан: .....сар .....өдөр



Даалгавар	1	2	3	4	5
Өөрийн үнэлгээ	☺	☺	☺	☺	☺



Сурагчийн нэр: .....

Эхэлсэн: ..... он ..... сар ..... өдөр



$\begin{array}{r} 1.7 \\ + 1.2 \\ \hline 2.9 \end{array}$		
---	--	--

1 Арав хуваарьтай аравтын бутархайн дүрслэлийг ажиглан үйлдлийг гүйцэтгээрэй.

Бүхэл хэсэг	цэг	Аравны хэсэг
	Бүхлийн	
+	•	6
1	•	2
1	•	

Бүхэл хэсэг	цэг	Аравны хэсэг
	Бүхлийн	
-	•	8
2	•	2
1	•	

2 Зуу хуваарьтай аравтын бутархайн дүрслэлийг ажиглан үйлдлийг гүйцэтгээрэй.

Бүхэл хэсэг	цэг	Аравны хэсэг
	Бүхлийн	
+	•	35
1	•	13
1	•	

Бүхэл хэсэг	цэг	Аравны хэсэг
	Бүхлийн	
-	•	38
2	•	12
1	•	

3 Нийлбэрийн утгыг олоорой.

$$\begin{array}{r} 53.2 \\ + 12.4 \\ \hline \end{array}$$

$$\begin{array}{r} 9.63 \\ + 3.21 \\ \hline \end{array}$$

$$\begin{array}{r} 62.05 \\ + 40.82 \\ \hline \end{array}$$

$$\begin{array}{r} 72.84 \\ + 35.20 \\ \hline \end{array}$$

4 Ялгаврын утгыг олоорой..

$$\begin{array}{r} 92.3 \\ - 42.1 \\ \hline \end{array}$$

$$\begin{array}{r} 6.93 \\ - 1.23 \\ \hline \end{array}$$

$$\begin{array}{r} 97.24 \\ - 53.16 \\ \hline \end{array}$$

$$\begin{array}{r} 60.25 \\ - 40.18 \\ \hline \end{array}$$

Дууссан: .....сар .....өдөр

😊	😞	✎	Даалгавар	1	2	3	4
			Өөрийн үнэлгээ	😊	😊	😊	😊



Сурагчийн нэр: .....

Эхэлсэн: ..... он ..... сар ..... өдөр

1 Нийлбэрийг олоод шалгаарай.

$$\begin{array}{r} + 36.3 \\ 2.1 \\ \hline \end{array}$$

$$\begin{array}{r} + 1.6 \\ 32.3 \\ \hline \end{array}$$

$$\begin{array}{r} + 738.4 \\ 50.2 \\ \hline \end{array}$$

$$\begin{array}{r} + 23.8 \\ 384.1 \\ \hline \end{array}$$

$$\begin{array}{r} - \\ \hline \end{array}$$

$$\begin{array}{r} - \\ \hline \end{array}$$

$$\begin{array}{r} - \\ \hline \end{array}$$

$$\begin{array}{r} - \\ \hline \end{array}$$

2 Ялгаврыг олоод шалгаарай.

$$\begin{array}{r} - 63.0 \\ 12.3 \\ \hline \end{array}$$

$$\begin{array}{r} - 52.0 \\ 31.6 \\ \hline \end{array}$$

$$\begin{array}{r} - 75.80 \\ 3.42 \\ \hline \end{array}$$

$$\begin{array}{r} - 32.00 \\ 0.81 \\ \hline \end{array}$$

$$\begin{array}{r} + \\ \hline \end{array}$$

$$\begin{array}{r} + \\ \hline \end{array}$$

$$\begin{array}{r} + \\ \hline \end{array}$$

$$\begin{array}{r} + \\ \hline \end{array}$$

3 Нийлбэрийг олоод шалгаарай.

$$\begin{array}{r} + 16.3 \\ 32.8 \\ \hline \end{array}$$

$$\begin{array}{r} + 71.6 \\ 32.4 \\ \hline \end{array}$$

$$\begin{array}{r} + 83.94 \\ 25.07 \\ \hline \end{array}$$

$$\begin{array}{r} + 72.58 \\ 2.59 \\ \hline \end{array}$$

$$\begin{array}{r} \\ \hline \end{array}$$

$$\begin{array}{r} \\ \hline \end{array}$$

$$\begin{array}{r} \\ \hline \end{array}$$

$$\begin{array}{r} \\ \hline \end{array}$$

4 Ялгаврын утгыг олоорой.

$$\begin{array}{r} - 23. \\ 72.4 \\ \hline \end{array}$$

$$\begin{array}{r} - 3.6 \\ 1.29 \\ \hline \end{array}$$

$$\begin{array}{r} - 26. \\ 48.02 \\ \hline \end{array}$$

$$\begin{array}{r} - 72. \\ 35.24 \\ \hline \end{array}$$



$$\begin{array}{r} - 92.1 \\ 42.3 \\ \hline \end{array}$$





$$\begin{array}{r} - 6.23 \\ 1.93 \\ \hline \end{array}$$

$$\begin{array}{r} - 97.24 \\ 43.16 \\ \hline \end{array}$$

$$\begin{array}{r} - 60.25 \\ 50.18 \\ \hline \end{array}$$

Дууссан: .....сар .....өдөр

Даалгавар	1	2	3	4
Өөрийн үнэлгээ				



Сурагчийн нэр: .....

Эхэлсэн: ..... он ..... сар ..... өдөр

Тэгшитгэлийн шийдийг олж шалгаарай.

1 а.  $5.8 + A = 10$


б.  $B + 7.5 = 10$


2 а.  $X - 4.2 = 10$


б.  $K - 8.7 = 20$


3 а.  $35.12 - A = 46.78$


б.  $100 - K = 54.75$


4 а.  $75.08 - A = 45.7$


б.  $10.01 - T = 5.5$


5 Нийлбэр нь нэг байх аравтын бутархайг цээжээр бодож, бичээрэй.

1	0.6	0.2		0.3	0.5			0.8
	0.4		0.9			0.1	0.7	

1	0.25	0.72		0.53	0.75			0.83
	0.75		0.95			0.16	0.67	

1	0.25	0.72		0.53	0.75			0.83
	0.75		0.95			0.16	0.67	

Дууссан: .....сар .....өдөр



Даалгавар	1	2	3	4
Өөрийн үнэлгээ	😊	😊	😊	😊

